

Діагностувальні роботи з математики

4 клас II семестр

(За програмою О. Савченко

до підручника Н. Будна, М. Беденко)

Склала : вчитель початкових класів

Ралівського опорного закладу ім. Івана Франка

Савицька Аліна Мар'янівна



4. Знайди:

$\frac{1}{4}$  від 1 год =

$\frac{1}{2}$  від 1 ц =

$\frac{1}{5}$  від 1 т =


5. Знайди значення виразу  $(c + c : 4) : 8$ , якщо  $c = 416$


6. Розв'яжи рівняння.

$$X - 763 = 54 * 6$$


7. Накресли прямокутник із сторонами 4 см і 6 см. Обчисли його периметр і площу.


<hr/>
-------















# Робота 7

Дата \_\_\_\_\_

Варіант 1

1. Розв'яжи задачу.

Туристи мали пройти 280 км. першого дня вони пройшли  $\frac{1}{5}$  всієї відстані, другого дня -  $\frac{2}{6}$  усієї відстані. Скільки км залишилося пройти туристам?


2. Знайти  $\frac{1}{3}$  від 15066,  $\frac{4}{5}$  від 423565


3. Від числа 3020 відніми п'яту його частину.


4. Знайди :

3/6 год = хв, 4/8 доби = год, 2/4 м = см.


5. При яких значеннях а нерівність  $a * 6 > 80$  буде правильною.


6. Розв'яжи рівняння.

$$X + 60 = 420 : 2$$


7. Довжина саду прямокутної форми 30 м, а ширина – 20 м. Третину площі саду займають груші. Яку площу займають груші?


_____
-------













4. Порівняй.


5 хв 20 с  $\square$  300 с

42 м 20 см  $\square$  422 см

19 кг  $\square$  19000 г

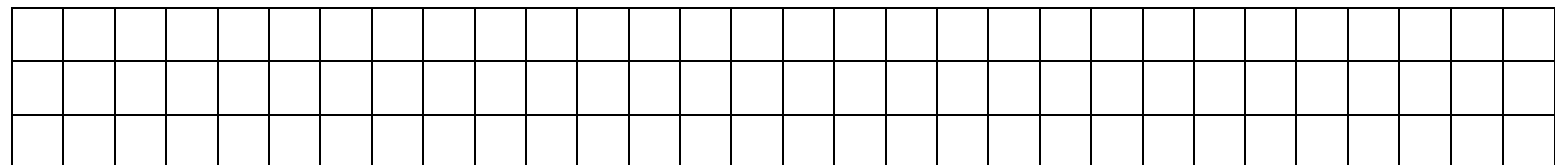
5. Розв'яжи рівняння.

$X + 400 = 6\,500$





6. При якому із поданих значень змінної  $b$  нерівність  $4500 : b < 450$  буде правильною?

$b = 10$ ,  $b = 100$ ,  $b = 1000$



7. Маса третини дині становить 1 кг 400 г. Яка маса 4 таких динь?










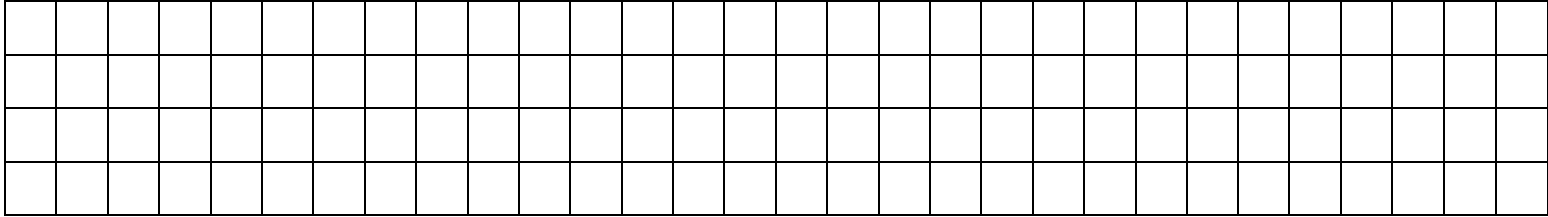
4. Відомо, що  $a = 9000$ . Знайди  $\frac{4}{6}$  від  $a$ .



5. Обчисли.


14 год 26 хв + 23 год 37 хв =

7 р 7 міс + 9 р 9 міс =

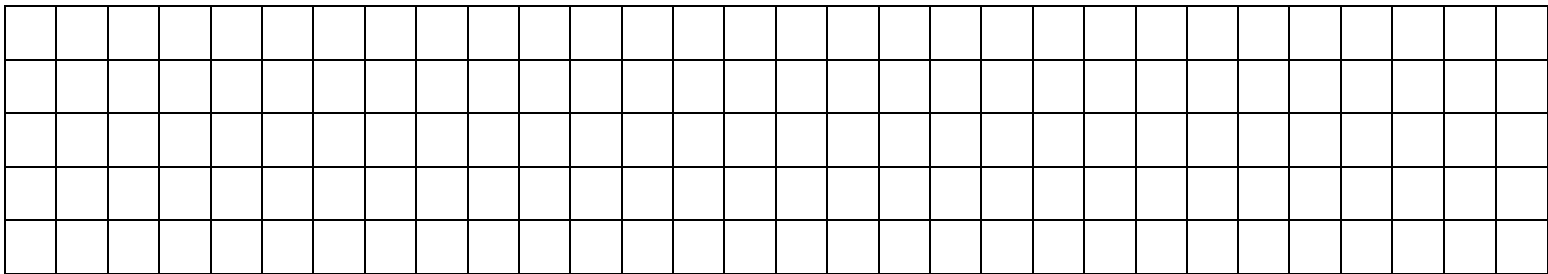


6. Розв'яжи рівняння.

$x \cdot 8 = 430 + 370$



7. Ширина спортивного залу становить 24 м, а довжина на 18 м довша. Знайди площу спортивного залу.



_____
-------

## Зміст

1.Комбінована контрольна робота №5. Множення на одноцифрове число. Площа фігури.....	3
2.Комбінована контрольна робота №6. Ділення на одноцифрове число.....	7
3.Комбінована контрольна робота №7 .Дроби.....	11
4.Комбінована контрольна робота №8. Перевірка сформованості усних обчислень.....	15
5.Підсумкова контрольна робота(комбінована).....	19